
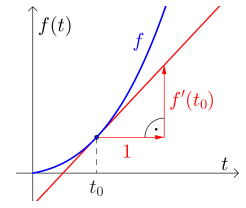


Momentane Änderungsrate 


Rechts ist die **Tangente** an den Graphen einer Funktion  $f$  an der Stelle  $t_0$  eingezeichnet.  
 Erinnere dich, dass der **Differentialquotient**

$$f'(t_0) = \lim_{h \rightarrow 0} \frac{f(t_0 + h) - f(t_0)}{h}$$



die **lokale Änderungsrate** – also die Steigung von  $f$  an der Stelle  $t_0$  – misst.

Wenn  $t_0$  ein Zeitpunkt ist, nennen wir die lokale Änderungsrate auch **momentane Änderungsrate**.

Konstante Geschwindigkeit 

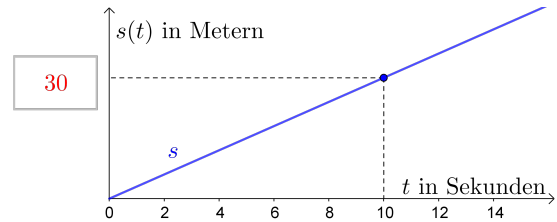
Wenn du mit der **konstanten** Geschwindigkeit  $v = 3 \text{ m/s}$  läufst, dann legst du pro Sekunde 3 Meter zurück, also in  $t$  Sekunden insgesamt  $3 \cdot t$  Meter.

Für die zugehörige Weg-Zeit-Funktion  $s$  gilt also:

$$s(t) = 3 \cdot t$$


$t \dots$  Zeit in Sekunden

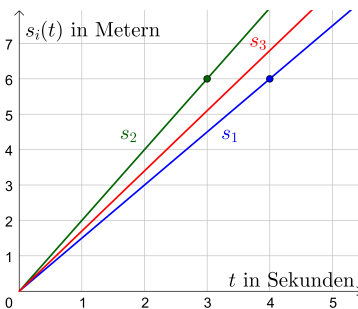
$s(t) \dots$  zurückgelegter Weg in Metern im Zeitintervall  $[0; t]$



Im Bild ist der Graph der **linearen Funktion**  $s$  dargestellt. Trage die richtige Zahl in das Kästchen ein.

Die konstante **Steigung der Weg-Zeit-Funktion**  $s$  ist also die konstante **Geschwindigkeit**  $v$ .

Konstante Geschwindigkeit 



Lukas und Mario bewegen sich mit konstanter Geschwindigkeit. Ihre Weg-Zeit-Funktionen  $s_1$  und  $s_2$  sind links grafisch dargestellt.

- 1) Ermittle die zugehörigen Geschwindigkeiten  $v_1$  und  $v_2$ .

$$v_1 = \frac{6 \text{ m}}{4 \text{ s}} = 1,5 \text{ m/s} \quad v_2 = \frac{6 \text{ m}}{3 \text{ s}} = 2 \text{ m/s}$$

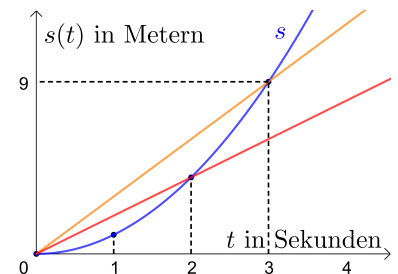
Ariana startet gleichzeitig und bewegt sich auch mit konstanter Geschwindigkeit. Ihre Geschwindigkeit liegt zwischen  $v_1$  und  $v_2$ .

- 2) Zeichne einen möglichen Graphen ihrer Weg-Zeit-Funktion  $s_3$  ein.

Mittlere Geschwindigkeit 

Rechts ist eine nicht-lineare Weg-Zeit-Funktion  $s$  grafisch dargestellt. Die Geschwindigkeit ist also **nicht** konstant.

- 1) Berechne die Steigung der eingezeichneten **Sekante**.  
 Welche Einheit hat diese Steigung?  
 Welche physikalische Interpretation hat diese Steigung?
- 2) Begründe, in welchem der beiden Zeitintervalle  $[0; 2]$  bzw.  $[0; 3]$  die mittlere Geschwindigkeit größer ist.

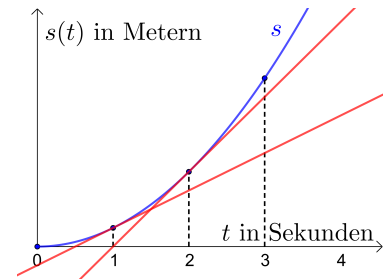


- 1)  $\frac{\Delta s}{\Delta t} = \frac{9 \text{ m}}{3 \text{ s}} = 3 \text{ m/s}$  ist die **mittlere Geschwindigkeit im Zeitintervall  $[0; 3]$** .
- 2) Die **Sekante durch die Punkte  $(0 | s(0))$  und  $(2 | s(2))$  hat eine kleinere Steigung.**  
 Also ist die **mittlere Geschwindigkeit in  $[0; 3]$  größer als in  $[0; 2]$ .**

Momentangeschwindigkeit



Rechts ist eine nicht-lineare Weg-Zeit-Funktion  $s$  grafisch dargestellt. An den Stellen  $t = 1$  und  $t = 2$  ist jeweils die Tangente eingezeichnet.



1) Trage  $<$ ,  $=$  oder  $>$  richtig in das Kästchen ein.

$$s'(1) < s'(2)$$

2) Welche Einheit haben  $s'(1)$  und  $s'(2)$ ? Hast du eine Vermutung, welche physikalische Interpretation diese Steigungen haben?

2)  $s'(1)$  und  $s'(2)$  haben die Einheit m/s.  
Die Steigung der Tangente gibt die Geschwindigkeit zu diesem Zeitpunkt an.

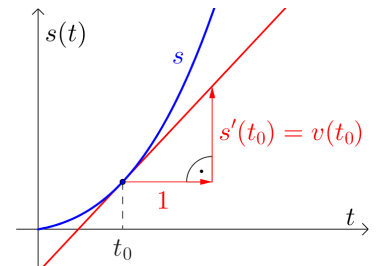
Geschwindigkeit-Zeit-Funktion



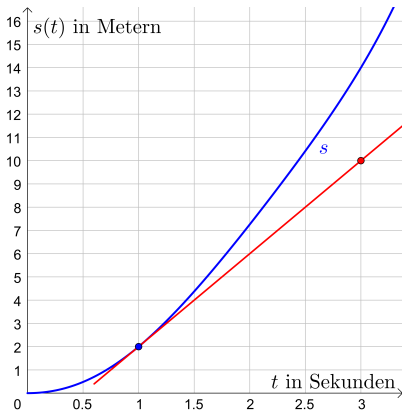
Die momentane Änderungsrate der Weg-Zeit-Funktion  $s$  zum Zeitpunkt  $t_0$  ist genau die Geschwindigkeit zu diesem Zeitpunkt.

Die **Ableitungsfunktion** der Weg-Zeit-Funktion  $s$  ist also die **Geschwindigkeit-Zeit-Funktion**  $v$ .

Kurz:  $s'(t) = v(t)$



Momentangeschwindigkeit



Links ist eine Weg-Zeit-Funktion  $s$  grafisch dargestellt. An der Stelle  $t = 1$  ist die Tangente eingezeichnet. Ermittle die Geschwindigkeit zum Zeitpunkt  $t = 1$ .

$$v(1) = s'(1) = \frac{8 \text{ m}}{2 \text{ s}} = 4 \text{ m/s}$$

Konstante Beschleunigung



Ein Auto beschleunigt aus dem Stillstand mit der *konstanten* Beschleunigung  $a = 6 \text{ m/s}^2$ .

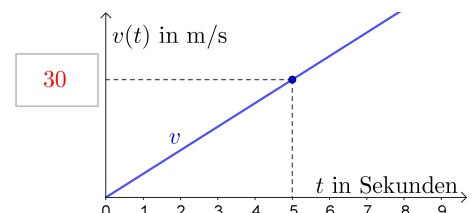
Das heißt: Das Auto wird pro Sekunde um  $6 \text{ m/s}$  schneller.

Für die zugehörige Geschwindigkeit-Zeit-Funktion  $v$  gilt also:

$$v(t) = 6 \cdot t$$

$t \dots$  Zeit in Sekunden

$v(t) \dots$  Geschwindigkeit in  $\text{m/s}$  zum Zeitpunkt  $t$



Rechts oben ist der Graph der linearen Funktion  $v$  dargestellt.

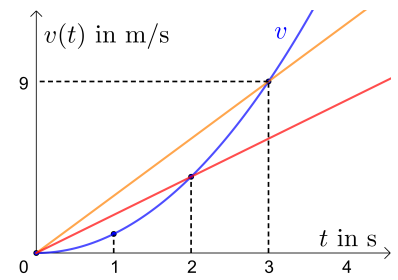
Trage die richtige Zahl in das Kästchen ein.

Die konstante **Steigung** der **Geschwindigkeit-Zeit-Funktion**  $v$  ist also die konstante **Beschleunigung**  $a$ .

Mittlere Beschleunigung



Rechts ist eine nicht-lineare Geschwindigkeit-Zeit-Funktion  $v$  grafisch dargestellt. Die Beschleunigung ist also *nicht* konstant.



- 1) Berechne die Steigung der eingezeichneten Sekante.  
Welche Einheit hat diese Steigung?  
Welche physikalische Interpretation hat diese Steigung?
- 2) Begründe, in welchem der beiden Zeitintervalle  $[0; 2]$  bzw.  $[0; 3]$  die mittlere Beschleunigung größer ist.

- 1)  $\frac{\Delta v}{\Delta t} = \frac{9 \text{ m/s}}{3 \text{ s}} = 3 \text{ m/s}^2$  ist die mittlere Beschleunigung im Zeitintervall  $[0; 3]$ .
- 2) Die Sekante durch die Punkte  $(0 | v(0))$  und  $(2 | v(2))$  hat eine kleinere Steigung.  
Also ist die mittlere Beschleunigung in  $[0; 3]$  größer als in  $[0; 2]$ .

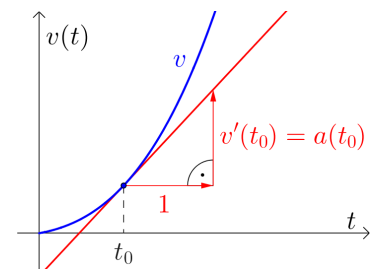
Beschleunigung-Zeit-Funktion



Die momentane Änderungsrate der Geschwindigkeit-Zeit-Funktion  $v$  zum Zeitpunkt  $t_0$  ist genau die Beschleunigung zu diesem Zeitpunkt.

Die **Ableitungsfunktion der Weg-Zeit-Funktion  $v$**  ist also die **Beschleunigung-Zeit-Funktion  $a$** .

Kurz:  $v'(t) = a(t)$  bzw.  $s''(t) = a(t)$



Weg – Geschwindigkeit – Beschleunigung



Für eine Weg-Zeit-Funktion  $s$  gilt:

$$s(t) = -\frac{1}{24} \cdot t^4 + \frac{1}{3} \cdot t^3 + t^2 + 8 \cdot t$$

$t \dots$  Zeit in Sekunden,  $0 \leq t \leq 3$

$s(t) \dots$  zurückgelegter Weg in Metern im Zeitintervall  $[0; t]$

- 1) Berechne die Geschwindigkeit zum Zeitpunkt  $t = 0$  in km/h.
- 2) Berechne die minimale und die maximale Beschleunigung im Zeitintervall  $[0; 3]$ .

1)  $v(t) = s'(t) = -\frac{1}{6} \cdot t^3 + t^2 + 2 \cdot t + 8 \implies v(0) = 8 \text{ m/s} = 28,8 \text{ km/h}$

2)  $a(t) = v'(t) = -\frac{1}{2} \cdot t^2 + 2 \cdot t + 2$

$a'(t) = -t + 2 = 0 \iff t = 2$

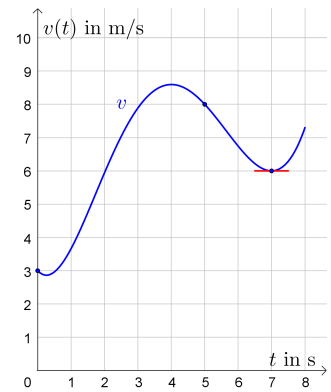
Also hat die Beschleunigung-Zeit-Funktion  $a$  nur zum Zeitpunkt  $t = 2$  eine waagrechte Tangente. Der größte und der kleinste Funktionswert von  $a$  im Zeitintervall  $[0; 3]$  liegt also entweder am Rand des Intervalls oder an der Stelle  $t = 2$ :

$a(0) = 2 \text{ m/s}^2 = a_{\min}$  (Randminimum)

$a(2) = 4 \text{ m/s}^2 = a_{\max}$

$a(3) = 3,5 \text{ m/s}^2$

David fährt mit dem Fahrrad einen Hügel bergab. Der Graph seiner Geschwindigkeit-Zeit-Funktion  $v$  ist rechts im Zeitintervall  $[0; 8]$  dargestellt. Ermittle jeweils das angegebene **Änderungsmaß** von  $v$ , und interpretiere das Ergebnis im Sachzusammenhang.



- Absolute Änderung von  $v$  im Zeitintervall  $[0; 5]$
- Relative Änderung von  $v$  im Zeitintervall  $[0; 5]$
- Mittlere Änderungsrate von  $v$  im Zeitintervall  $[0; 5]$
- Momentane Änderungsrate von  $v$  zum Zeitpunkt  $t = 7$

a)  $v(5) - v(0) = 5 \text{ m/s}$

David ist nach 5 Sekunden um 5 m/s schneller als zu Beginn.

b)  $\frac{v(5) - v(0)}{v(0)} = \frac{5 \text{ m/s}}{3 \text{ m/s}} = \frac{5}{3} = 166,6\dots \%$

David ist nach 5 Sekunden um 166,6... % schneller als zu Beginn.

c)  $\frac{v(5) - v(0)}{5 - 0} = \frac{5 \text{ m/s}}{5 \text{ s}} = 1 \text{ m/s}^2$

David's Geschwindigkeit wird im Zeitintervall  $[0; 5]$  pro Sekunde *durchschnittlich* um 1 m/s größer. Oder: David hat im Zeitintervall  $[0; 5]$  die mittlere Beschleunigung  $1 \text{ m/s}^2$ .

d)  $v'(7) = a(7) = 0 \text{ m/s}^2$

David's Beschleunigung zum Zeitpunkt  $t = 7$  ist  $0 \text{ m/s}^2$ .

Ana legt eine Getränkeflasche in den Gefrierschrank mit konstanter Umgebungstemperatur  $-20^\circ\text{C}$ . Zu diesem Zeitpunkt  $t = 0$  beträgt die Getränketemperatur  $22^\circ\text{C}$ . Für den zeitlichen Verlauf der Getränketemperatur gilt:

$$T(t) = a \cdot e^{-0,002 \cdot t} + b$$

$t$  ... Zeit in Minuten ( $t \geq 0$ )

$T(t)$  ... Getränketemperatur in  $^\circ\text{C}$  zum Zeitpunkt  $t$

- Ermittle die Parameter  $a$  und  $b$ .
- Berechne die momentane Änderungsrate der Getränketemperatur nach 2 Stunden. Welche Einheit hat die momentane Änderungsrate von  $T$ ?

- 1) Die Getränketemperatur nähert sich für  $t \rightarrow \infty$  der Temperatur  $-20^\circ\text{C}$  an.

$$e^{-0,002 \cdot t} \rightarrow 0 \implies a \cdot 0 + b = -20 \implies b = -20$$

$$T(0) = a \cdot 1 + b = 22 \implies a = 22 - b = 42$$

- 2)  $T(t) = 42 \cdot e^{-0,002 \cdot t} - 20$

$$\implies T'(t) = 42 \cdot e^{-0,002 \cdot t} \cdot (-0,002) = -0,084 \cdot e^{-0,002 \cdot t}$$

$$\implies T'(120) = -0,0660\dots \text{ }^\circ\text{C}/\text{min}$$

