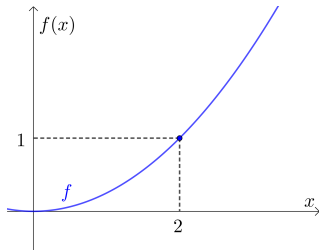


Grundvorstellung zur Stetigkeit

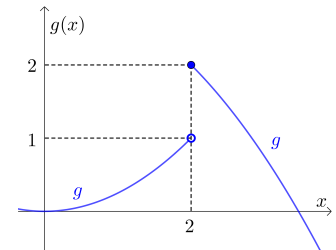


Stetigkeit: „Kleine Veränderungen in x -Richtung bewirken kleine Veränderungen in y -Richtung.“



Wie ändern sich links die Funktionswerte von f , wenn wir uns *ein bisschen* von der Stelle $x = 2$ nach links oder nach rechts bewegen?

Wie ändern sich rechts die Funktionswerte von g , wenn wir uns *ein bisschen* von der Stelle $x = 2$ nach links oder nach rechts bewegen?

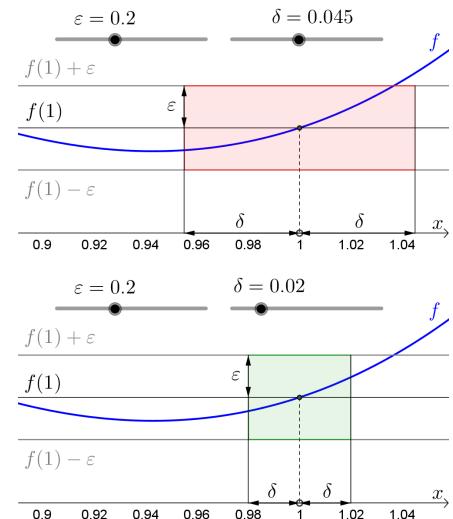


Stetigkeit



Die rechts dargestellte Funktion f ist stetig an der Stelle $x_0 = 1$. Deshalb können wir stets das folgende Spiel gewinnen:

- 1) Unser Gegner legt eine Fehlertoleranz $\varepsilon > 0$ fest. In den Bildern rechts ist zum Beispiel $\varepsilon = 0,2$.
- 2) Danach wählen wir einen Spielraum $\delta > 0$. Im Bild oben ist $\delta = 0,045$. Im Bild unten ist $\delta = 0,02$.
- 3) Die Fehlertoleranz ε und der Spielraum δ legen – wie rechts dargestellt – ein Rechteck mit Mittelpunkt $(1 | f(1))$ fest.
- 4) Liegt an jeder Stelle x in $]1 - \delta; 1 + \delta[$ der zugehörige Funktionswert $f(x)$ in $]f(1) - \varepsilon; f(1) + \varepsilon[$, dann gewinnt unser Spielraum δ gegen die vorgegebene Fehlertoleranz ε . In diesem Spiel gewinnt also $\delta = 0,02$ gegen $\varepsilon = 0,2$.



Wenn es an der Stelle x_0 zu jeder noch so kleinen positiven Fehlertoleranz ε einen passenden positiven Spielraum δ gibt, dann ist die Funktion an der Stelle x_0 stetig.

Stetigkeit



Die Funktion f ist stetig an der Stelle x_0 , wenn es zu jedem $\varepsilon > 0$ ein $\delta > 0$ so gibt, dass

$$f(x_0) - \varepsilon < f(x) < f(x_0) + \varepsilon \quad \forall \varepsilon > 0 \exists \delta > 0 \forall x : |x - x_0| < \delta \implies |f(x) - f(x_0)| < \varepsilon$$

für alle x in $]x_0 - \delta; x_0 + \delta[$ gilt.

Wenn die Funktion f an jeder Stelle x_0 stetig ist, dann ist f eine **stetige Funktion**.

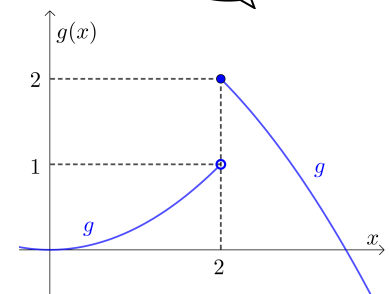
Sprungstelle



Die rechts dargestellte Funktion g ist stückweise definiert.

$$\text{Es gilt: } g(x) = \begin{cases} \frac{x^2}{4}, & \text{falls } x < 2, \\ 3 - \frac{x^2}{4}, & \text{falls } x \geq 2. \end{cases}$$

Die Funktion hat an der Stelle $x_0 = 2$ eine **Sprungstelle**. Erkläre mit $\varepsilon = 0,5$, warum f an der Stelle 2 *nicht* stetig ist.



Für jede Stelle x in $]2 - \delta; 2 + \delta[$ müsste $1,5 < g(x) < 2,5$ gelten.

Aber jede noch so kleine Umgebung von 2 enthält Stellen x mit $g(x) < 1$.

Wir sagen auch: Die Funktion ist **unstetig** an der Stelle $x_0 = 2$.

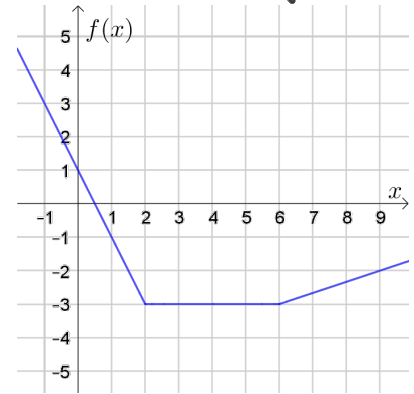


Für die Funktion f gilt: $f(x) = \begin{cases} -2 \cdot x + a, & \text{falls } x < 2, \\ -3, & \text{falls } 2 \leq x \leq 6, \\ \frac{1}{3} \cdot x + b, & \text{falls } x > 6. \end{cases}$

- 1) Berechne die Zahlen a und b so, dass die Funktion f stetig ist.
- 2) Zeichne rechts den Funktionsgraphen ein.

$$f(2) = -3 \implies -4 + a = -3 \implies a = 1$$

$$f(6) = -3 \implies 2 + b = -3 \implies b = -5$$



Die **elementaren Funktionen** sind – überall dort, wo sie definiert sind – **stetig**. Dazu zählen:

- 1) **Polynomfunktionen:** $f(x) = 4 \cdot x^5 - 5 \cdot x^3 + 2 \cdot x + 42$ mit Definitionsmenge $D = \mathbb{R}$
- 2) **Potenzfunktionen:** $p(x) = x^{-2} = \frac{1}{x^2}$ mit Definitionsmenge $D = \mathbb{R} \setminus \{0\}$
- 3) **Wurzelfunktionen:** $w(x) = x^{\frac{5}{4}} = \sqrt[4]{x^5}$ mit Definitionsmenge $D = \mathbb{R}^+$
- 4) **Exponentialfunktionen:** $e(x) = 4^x$ mit Definitionsmenge $D = \mathbb{R}$
- 5) **Logarithmusfunktionen:** $\ell(x) = \log_4(x)$ mit Definitionsmenge $D = \mathbb{R}^+$
- 6) **Winkelfunktionen:** $s(x) = \sin(x)$ mit Definitionsmenge $D = \mathbb{R}$
- 7) **Arkusfunktionen:** $a(x) = \arcsin(x)$ mit Definitionsmenge $D = [-1; 1]$

Wenn f und g stetige Funktionen sind, dann sind auch ihre **Summe**, ihre **Differenz**, ihr **Produkt**, ihr **Quotient** und ihre **Zusammensetzung** wieder im gesamten Definitionsbereich **stetig**.



Die Funktionen f mit $f(x) = \sqrt{x}$ und g mit $g(x) = x - 4$ sind als elementare Funktionen stetig.

- a) Die Funktion s mit $s(x) = \sqrt{x} + x - 4$ ist als Summe stetiger Funktionen auch stetig.
Die Funktion s ist für alle $x \geq 0$ definiert.
- b) Die Funktion d mit $d(x) = \sqrt{x} - x + 4$ ist als Differenz stetiger Funktionen auch stetig.
Die Funktion d ist für alle $x \geq 0$ definiert.
- c) Die Funktion p mit $p(x) = \sqrt{x} \cdot (x - 4)$ ist als Produkt stetiger Funktionen auch stetig.
Die Funktion p ist für alle $x \geq 0$ definiert.
- d) Die Funktion q mit $q(x) = \frac{\sqrt{x}}{x - 4}$ ist als Quotient stetiger Funktionen auch stetig.
Die Funktion q ist für alle $x \geq 0$ außer $x = 4$ definiert.
- e) Die Funktion k mit $k(x) = \sqrt{x - 4}$ ist als Zusammensetzung stetiger Funktionen auch stetig.
Die Funktion k ist für alle $x \geq 4$ definiert.

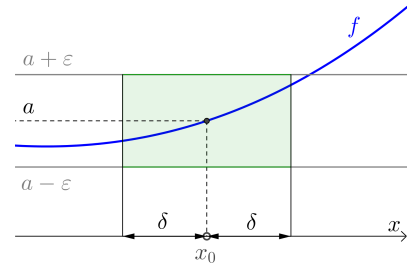


Für den Grenzwert der Funktion f an der Stelle x_0 schreiben wir kurz: $\lim_{x \rightarrow x_0} f(x)$

Bei diesem Grenzwert betrachten wir die Funktionswerte an allen Stellen, die *ein bisschen* links bzw. rechts von x_0 liegen.

Wir untersuchen dann, wie sich die Funktionswerte verhalten, wenn wir uns der Stelle x_0 annähern.

Im Bild rechts gilt $\lim_{x \rightarrow x_0} f(x) = a$, das heißt:



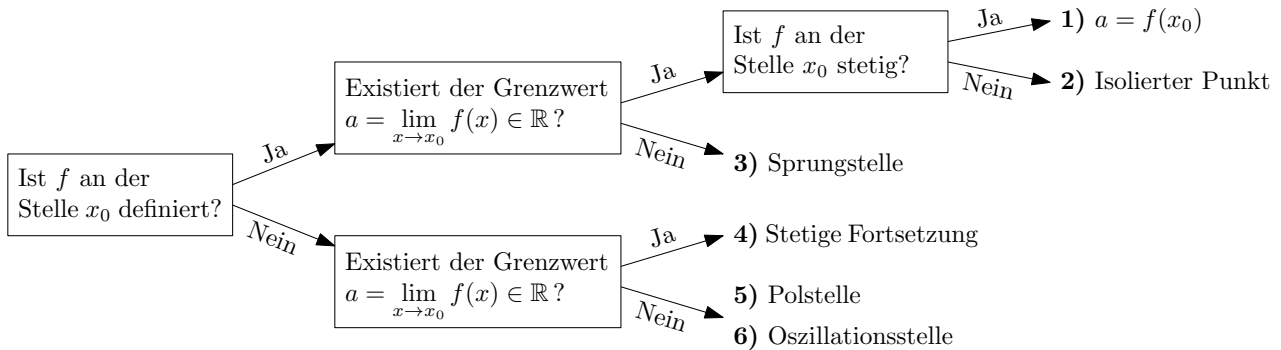
Für jede Zahl $\epsilon > 0$ gibt es eine Zahl $\delta > 0$ so, dass

$$a - \epsilon < f(x) < a + \epsilon$$

für alle x in $]x_0 - \delta; x_0 + \delta[$ mit $x \neq x_0$ gilt.

Die Funktion f ist genau dann **stetig an der Stelle x_0** , wenn $\lim_{x \rightarrow x_0} f(x) = f(x_0)$ gilt.

Beim Versuch, den Grenzwert $\lim_{x \rightarrow x_0} f(x)$ zu ermitteln, kann aber einiges mehr passieren:



Auf dem restlichen Arbeitsblatt erfährst du mehr zu den Fällen 1) – 6).

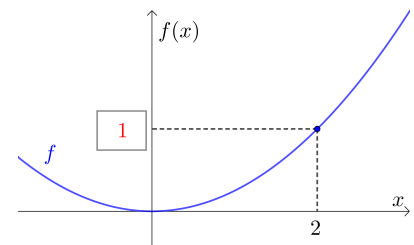
1) Stetigkeit – Grenzwert



Die rechts dargestellte Funktion f mit $f(x) = \frac{x^2}{4}$ ist stetig an der Stelle $x_0 = 2$. Ermittle ihren Grenzwert an der Stelle 2:

$$\lim_{x \rightarrow 2} f(x) = f(2) = \frac{2^2}{4} = 1$$

Trage rechts die richtige Zahl in das Kästchen ein.



2) Isolierter Punkt



Rechts ist der Graph der folgenden Funktion f dargestellt:

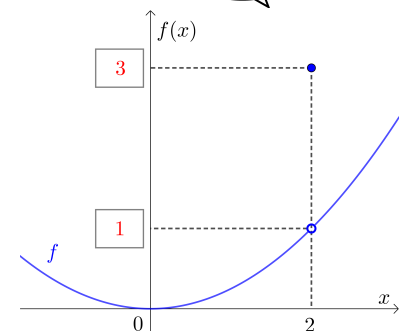
$$f(x) = \begin{cases} \frac{x^2}{4}, & \text{falls } x \neq 2, \\ 3, & \text{falls } x = 2. \end{cases}$$

Der Grenzwert $\lim_{x \rightarrow 2} f(x)$ existiert, aber f ist unstetig an der Stelle 2.

Der Funktionswert $f(2)$ an der untersuchten Stelle $x_0 = 2$ ist für die Stetigkeit wesentlich, aber *nicht* für den Grenzwert an der Stelle.

Für diese Funktion f gilt: $\lim_{x \rightarrow 2} f(x) = 1$

Am Funktionsgraphen von f ist $(2 | 3)$ ein **isolierter Punkt**.



3) Sprungstelle



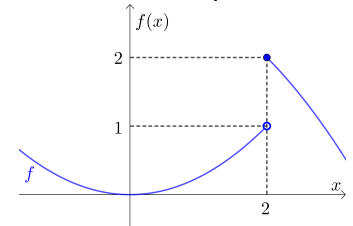
Rechts ist der Graph der folgenden Funktion f dargestellt:

$$f(x) = \begin{cases} \frac{x^2}{4}, & \text{falls } x < 2, \\ 3 - \frac{x^2}{4}, & \text{falls } x \geq 2. \end{cases}$$

Der Grenzwert $\lim_{x \rightarrow 2} f(x)$ existiert *nicht*.

Nähern wir uns von der linken Seite an, dann gilt: $\lim_{x \rightarrow 2^-} f(x) = 1$

Nähern wir uns von der rechten Seite an, dann gilt: $\lim_{x \rightarrow 2^+} f(x) = 2$



„Linksseitiger Grenzwert“

„Rechtsseitiger Grenzwert“

4) Stetige Fortsetzung



Die Funktion f mit $f(x) = \frac{2 \cdot x^2 - 18}{x - 3}$ ist an der Stelle $x_0 = 3$ *nicht* definiert.

Beim Versuch für x den Wert 3 einzusetzen, erhalten wir einen **unbestimmten Ausdruck** $\frac{0}{0}$.

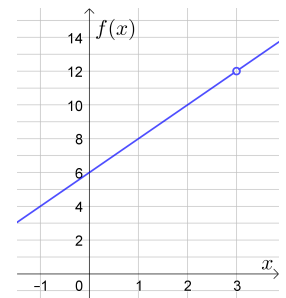
Es gilt: $f(x) = \frac{2 \cdot (x^2 - 9)}{x - 3} = \frac{2 \cdot (x - 3) \cdot (x + 3)}{x - 3}$

Für $x \neq 3$ ist f also eine lineare Funktion mit $f(x) = 2 \cdot x + 6$.

Zeichne rechts den Funktionsgraphen von f ein.

Ermittle den Grenzwert an der Stelle $x_0 = 3$: $\lim_{x \rightarrow 3} f(x) = 2 \cdot 3 + 6 = 12$

Die Funktion f hat eine **stetige Fortsetzung**: $\tilde{f}(x) = \begin{cases} f(x), & \text{falls } x \neq 3, \\ 12, & \text{falls } x = 3. \end{cases}$



Dieser Fall mit unbestimmten Ausdrücken $\frac{0}{0}$ tritt zum Beispiel auf, wenn wir die Steigung von $g(x) = x^2$ an einer Stelle berechnen. Mehr dazu findest du auf dem [Arbeitsblatt – Differentialquotient](#).

5) Polstellen



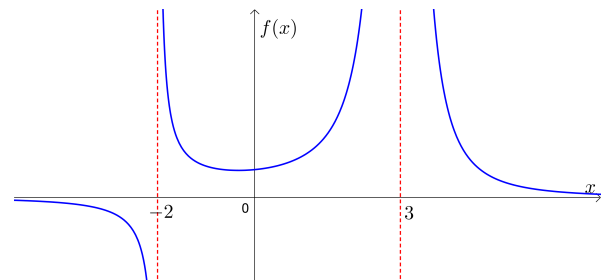
Die Funktion f mit $f(x) = \frac{1}{(x + 2) \cdot (x - 3)^2}$ ist an den Stellen -2 und 3 *nicht* definiert.

Was passiert mit den Funktionswerten, wenn wir uns diesen Stellen von links bzw. rechts annähern?

Solche Stellen heißen **Polstellen**.

Die strichlierten senkrechten Geraden heißen **vertikale Asymptoten**.

Skizziere rechts den Graphen von f .



6) Oszillationsstelle



Die Funktion f mit $f(x) = \sin\left(\frac{1}{x}\right)$ ist an der Stelle $x_0 = 0$ *nicht* definiert.

Jede noch so kleine Umgebung von x_0 enthält jeden Funktionswert in $[-1; 1]$.

Es kann also kein Grenzwert an der Stelle x_0 existieren.

Eine solche Stelle heißt auch **Oszillationsstelle**.

