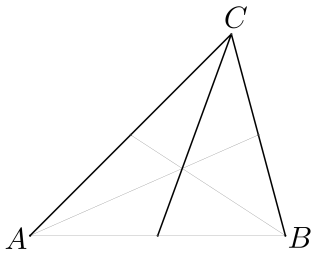


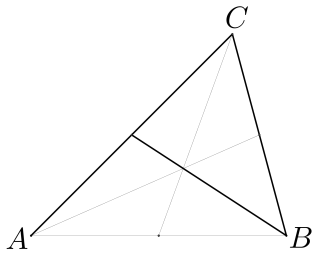


Aufgabe 1. *Konstruiere ein Dreieck mit $a = 7\text{ cm}$, $b = 6\text{ cm}$ und $s_c = 5\text{ cm}$.*



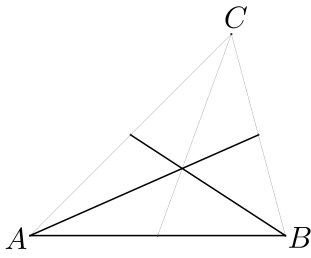


Aufgabe 2. *Konstruiere ein Dreieck mit $a = 7,5$ cm, $b = 6$ cm und $s_b = 7$ cm.*

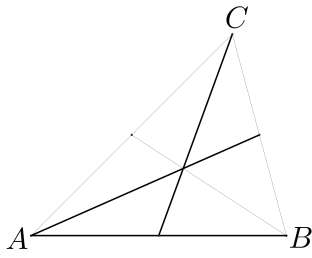




Aufgabe 3. *Konstruiere ein Dreieck mit $c = 8\text{ cm}$, $s_a = 6\text{ cm}$ und $s_b = 7\text{ cm}$.*



Eine Seite und zwei Schwerlinien, eine davon auf die gegebene Seite

**MmF****Aufgabe 4.** *Konstruiere ein Dreieck mit $c = 8,5$ cm, $s_a = 6$ cm und $s_c = 5,5$ cm.*

Aufgabe 5. *Konstruiere ein Dreieck mit $s_a = 6$ cm, $s_b = 7$ cm und $s_c = 5$ cm.*

